

«Ασκήσεις στα Μαθηματικά...»

1) Λύνω τις παρακάτω προσθέσεις:

Δεν ξεχνώ τα
κρατούμενα!!!



$$\begin{array}{r} 73 \\ +18 \\ \hline \end{array}$$

$$\begin{array}{r} 55 \\ +16 \\ \hline \end{array}$$

$$\begin{array}{r} 17 \\ +19 \\ \hline \end{array}$$

$$\begin{array}{r} 23 \\ +9 \\ \hline \end{array}$$

$$\begin{array}{r} 64 \\ +27 \\ \hline \end{array}$$

$$\begin{array}{r} 62 \\ +19 \\ \hline \end{array}$$

$$\begin{array}{r} 77 \\ +14 \\ \hline \end{array}$$

$$\begin{array}{r} 17 \\ +38 \\ \hline \end{array}$$

$$\begin{array}{r} 28 \\ +29 \\ \hline \end{array}$$

$$\begin{array}{r} 49 \\ +7 \\ \hline \end{array}$$

2) Συμπληρώνω τον αριθμό που λείπει:

$$20 + \dots + 5 = 30$$

$$13 + 5 + \dots = 28$$

$$37 + 6 + \dots = 49$$

$$26 + 5 + \dots = 38$$

$$42 + \dots + 10 = 60$$

$$14 + 10 + \dots = 33$$

$$26 + 9 + \dots = 39$$

$$50 + 20 + \dots = 79$$

3) Πόσα κόκαλα έχουν όλα τα σκυλάκια μαζί;

Έχω 15
κόκαλα!!

Έχω 14
κόκαλα!!

Έχω 19
κόκαλα!!



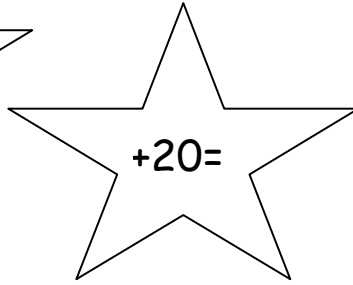
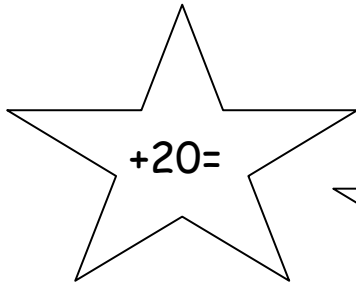
ΛΥΝΩ ΚΑΘΕΤΑ

Απάντηση: Όλα τα σκυλάκια μαζί έχουν



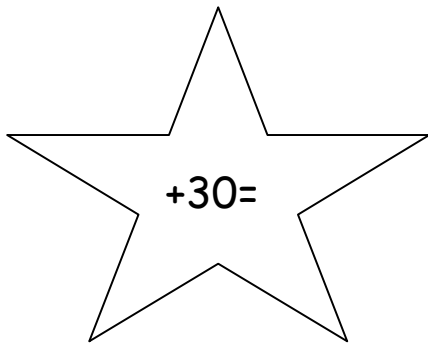
4) Βοηθώ τον αστροναύτη να πάει στο διάστημα:



Τέλος → 100



Αρχή → 0



5) Ποιος έχει τα περισσότερα πορτοκάλια; Λύνω κάθετα δίπλα από κάθε ήρωα και απαντώ.



37



45



52



29

Απάντηση: Τα περισσότερα πορτοκάλια τα έχει ο