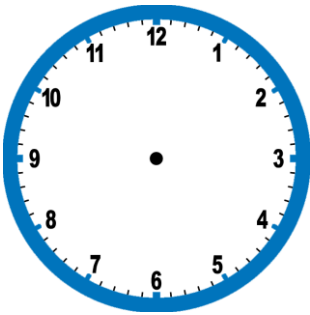
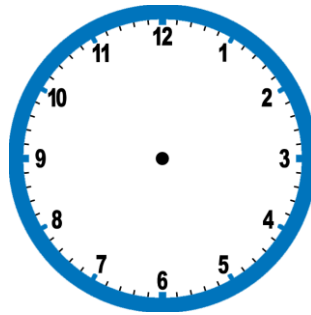


«Ασκήσεις στα Μαθηματικά...»

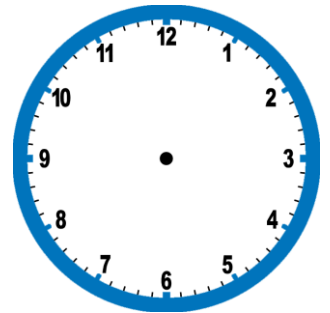
1) Συμπληρώνω τους δείκτες στα ρολόγια.



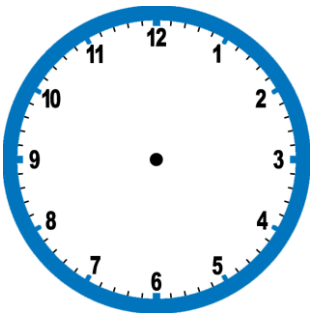
τέσσερις και τέταρτο



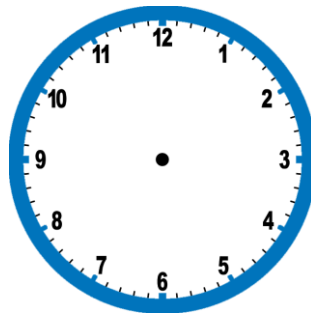
έντεκα ακριβώς



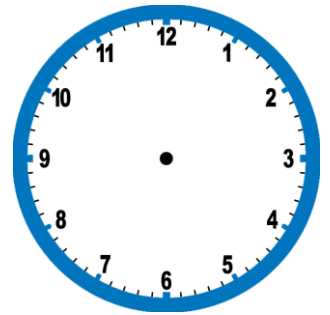
δώδεκα και δέκα



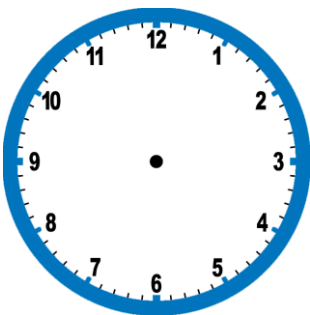
πέντε και μισή



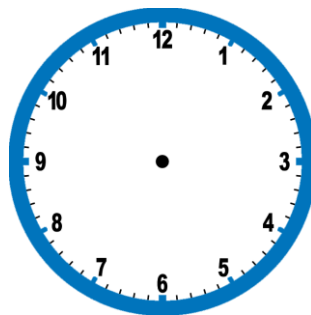
εφτά ακριβώς



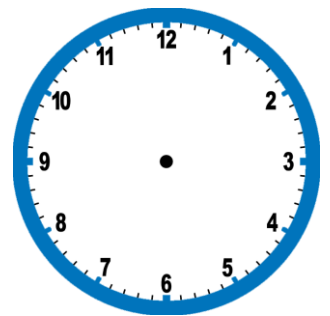
εννέα ακριβώς



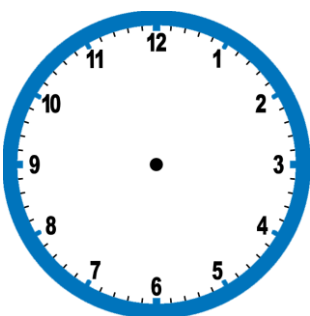
οκτώ και μισή



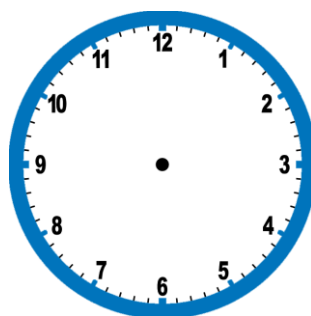
δέκα παρά πέντε



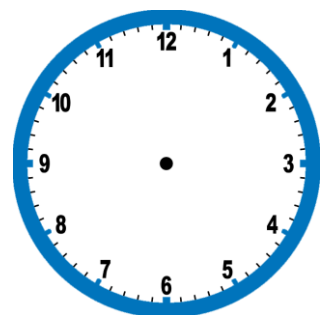
έξι ακριβώς



τρεις και μισή

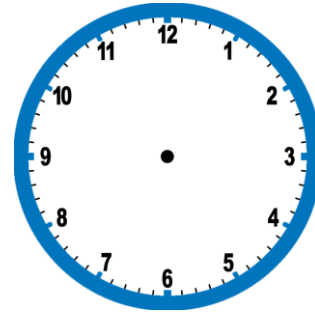

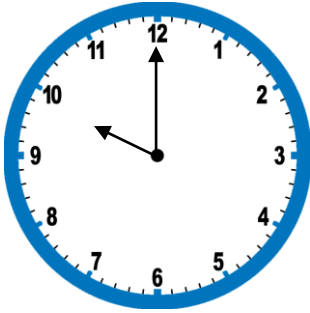


δύο παρά τέταρτο



πέντε και τέταρτο

2) Ο Τεντέν τάισε τον Μιλού στις δέκα ακριβώς το πρωί. Τρεις ώρες μετά ξαναπείνασε. Συμπληρώνω το ρολόι και γράφω από κάτω την ώρα.

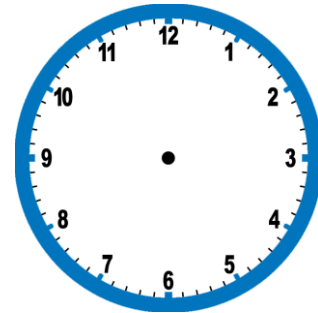
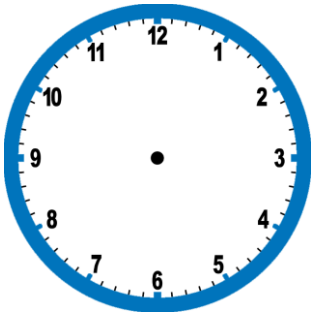


.....

3) Ο Τεντέν πρέπει να παραδώσει το άρθρο που γράφει στην εφημερίδα στις δώδεκα ακριβώς το μεσημέρι. Αν ξεκίνησε στις εννέα και μισή το πρωί, πόσες ώρες έχει για να το γράψει;

ώρα που ξεκίνησε

ώρα που πρέπει να το παραδώσει

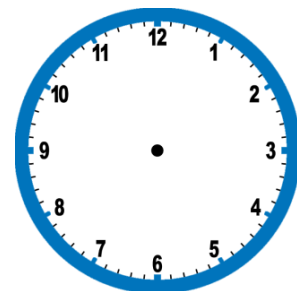
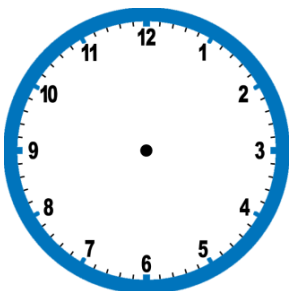


Απάντηση :

4) Ο Τεντέν ξεκίνησε να ανέβει το Παγγαίο στις έξι ακριβώς το πρωί και έφτασε στην κορυφή του στις τέσσερις ακριβώς το απόγευμα. Πόσες ώρες χρειάστηκαν για να φτάσει στην κορυφή του βουνού;

ώρα που ξεκίνησε

ώρα που έφτασε στην κορυφή



Απάντηση :

5) Βλέπω την ώρα του ρολογιού, παίρνω το χρώμα που μου δείχνει και χρωματίζω κατάλληλα τα κομμάτια του σχήματος.

