


«Ασκήσεις στα Μαθηματικά...»

1) Η Αστεράτη έχει 36 € και ο Ζακ 48 €. Πόσα χρήματα έχουν και οι δύο μαζί;



Ζωγραφίζω τα χρήματα



Λύνω

Απάντηση:

2) Ο κύριος Σαλάχης αγόρασε 6 βιβλία για το καινούριο σχολείο του ύφαλου. Κάθε βιβλίο κόστιζε 7 €. Πόσα χρήματα πλήρωσε για όλα τα βιβλία;

Ζωγραφίζω τα βιβλία και τα χρήματα




Λύνω με πρόσθεση και με πολλαπλασιασμό

Απάντηση:

3) Ο Μάρλιν δίνει κάθε μέρα 8 λ. χαρτζιλίκι στον Νέμο. Πόσα χρήματα θα έχει ο Νέμο μετά από 9 μέρες;

Ζωγραφίζω τα χρήματα


1^η μέρα



Λύνω με πρόσθεση και με πολλαπλασιασμό

Απάντηση:

4) Ο Σπίθας αγόρασε ένα κουτί με ξυλομπογιές που έκανε 4 € και 10 λ. και ένα παγωτό που κόστιζε 2 € και 70 λ. Πόσα χρήματα έδωσε και για τα δυο μαζί;



Ζωγραφίζω τα χρήματα

Ζωγραφίζω τα χρήματα

Απάντηση:

5) Η Ντάρλα είχε μαζί της 40€. Αγόρασε ένα επιτραπέζιο παιχνίδι που έκανε 28€. Πόσα ρέστα πήρε;



Λύνω

Απάντηση:

6) Κάθε ψάρι για να μπει στο ανατολικό αυστραλιανό ρεύμα πληρώνει 8€ στα διόδια. Πόσα ευρώ θα πληρώσουν τα 9 ψάρια;



Ζωγραφίζω τα ψάρια και τα χρήματα

Λύνω με πρόσθεση και με πολλαπλασιασμό

Απάντηση: